


# Mathe auf dem Bauernhof

1. Klasse



gemeinsam  
wachsen lernen

hauskaverlag

# Inhaltsverzeichnis

<b>Die Zahlen bis 10</b>		Rechenkette	41
Zahlen von 1 bis 10	1	Zahlenreihen rechnen	42
Wochentage zählen	2	Zahlenrätsel	44
Malen nach Zahlen	3	Tausch- und Umkehraufgaben	45
Zählen/Mengen erfassen	4	Rechenbild	46
Zahlen entdecken	8	Rechenrätsel	47
Zahlenreihen	10	Rechnungen vergleichen	48
Zwei oder vier Beine?	11	Unterschiede wahrnehmen	49
Zahlen suchen	12	Sachaufgaben	50
Mengen ergänzen/darstellen	13		
Würfelbilder	17	<b>Die Zahlen bis 20</b>	
Mengen bündeln	18	Zahlen darstellen	52
Zahlen zerlegen	20	Malen nach Zahlen	53
Größen vergleichen	21	Zahlen schreiben	54
Zahlenreihen ergänzen	22	Bis 20 zählen	55
Mengen/Zahlen vergleichen	23	Zahlenstrahl	56
		Zahlenreihen	57
<b>Flächenformen kennenlernen</b>			
Flächenformen	26	<b>Rechnen bis 20</b>	
Muster fortsetzen	28	Ergänzen bis 20	58
Sudoku	29	Kettenrechnung	59
		Malen nach Zahlen	60
<b>Rechnen bis 10</b>		Sachaufgabe/Verdoppeln	61
Plusaufgaben	30	Halbieren und rechnen	62
Minusaufgaben	33	Aufgaben vergleichen	63
Rechnen mit Geld	34	Sachaufgaben	64
Rechnen zu Bildern	35	Rechentürme	66
Rechnen mit Würfeln	36	Tabelle lesen	67
Minusaufgaben	37	Verabschiedung	68
Aufgabenfamilien	38		
Ergänzen bis 10	39	<b>Herausnehmbarer Lösungsteil</b>	
Rechnen zu Bildern	40	und <b>Rechenspiel</b> nach Seite	34


Hauschka Lernhilfen, Heft 651  
© 2021 Hauschka Verlag GmbH  
Lilienthalstr. 1, 82178 Puchheim  
Telefon +49 89 8940667-0  
Fax +49 89 8940667-69  
E-Mail: info@hauschkaverlag.de  
www.hauschkaverlag.de

**Verfasserin:** Ingrid Hauschka-Bohmann, Miesbach  
**Lektorat:** Agnes Spiecker, Freising  
**Illustrationen:** Gisela Specht, Weßling; Mascha Greune, München; Martina Knapp, Wuppertal  
**Gestaltung und Layout:** Gregor Schmidpeter, Gauting  
**Druck:** Schleunungsdruck GmbH, Marktheidenfeld  
Printed in Germany. Alle Rechte vorbehalten.  
ISBN 978-3-88100-651-4

Heute ist es soweit! Die Kinder kommen auf dem Bauernhof an. Da gibt es eine Menge zu entdecken.




6



An der Wand hängen Tierfotos. Leider sieht man die Beine der Tiere nicht. Du weißt aber sicher, wie viele Beine jedes Tier hat.

- ▶ Tiere mit **2 Beinen**: Male den Rahmen **blau** an.
- ▶ Tiere mit **4 Beinen**: Male den Rahmen **rot** an.



Tante Anna füllt Eierschachteln für das Osterfest.  
Schreibe die Anzahl neben die Schachteln.

► Vergleiche sie. Setze  $>$  oder  $<$  oder  $=$  ein.



6



9



—



—



—



—



—



—



—



—



—



—



► Kreise die Schachtel mit den meisten Eiern ein.

„Kikeriki!“ , schreit der Hahn Hugo.



► Rechne aus und male dann die Ergebniszahl im Hahn an.

$3 + 5 = \boxed{8}$

$1 + 8 = \boxed{\phantom{00}}$

$2 + 2 = \boxed{\phantom{00}}$

$2 + 3 = \boxed{\phantom{00}}$

$3 + 3 = \boxed{\phantom{00}}$

$5 + 4 = \boxed{\phantom{00}}$

$3 + 4 = \boxed{\phantom{00}}$

$5 + 5 = \boxed{\phantom{00}}$

$4 + 4 = \boxed{\phantom{00}}$

$4 + 5 = \boxed{\phantom{00}}$

$5 + 2 = \boxed{\phantom{00}}$


$4 + 2 = \boxed{\phantom{00}}$

# Üben, lernen und Spaß haben mit weiteren Titeln aus dem Hauschka Verlag:

für die 1. Klasse



für die 1./2. Klasse



## Quellenverzeichnis:

- S. 15 little british kittens cat © istockphoto.com
- S. 24/30 Ten Fingers © istockphoto.com
- S. 61 Kuh © Gregor Schmidpeter

Alle übrigen Fotos: © Ingrid Hauschka-Bohmann

Rätseln,  
knobeln,  
Spaß haben



## Mathe auf dem Bauernhof

1. Klasse

- spielerische Aufgaben im Zahlenraum bis 20
- mit herausnehmbarem **Lösungsteil** und **Rechenspiel**
- mit Rahmenthema Bauernhof
- liebevolle Illustrationen und Fotos



Noch mehr Titel unter  
[www.hauschkaverlag.de](http://www.hauschkaverlag.de)

ISBN 978-3-88100-651-4



9 783881 006514

[D] € 7,90  
[A] € 8,10